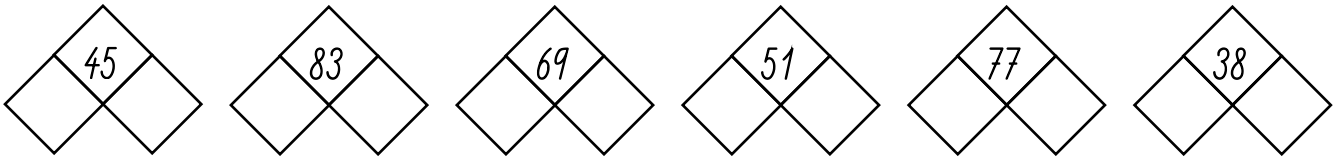


Meno: \_\_\_\_\_

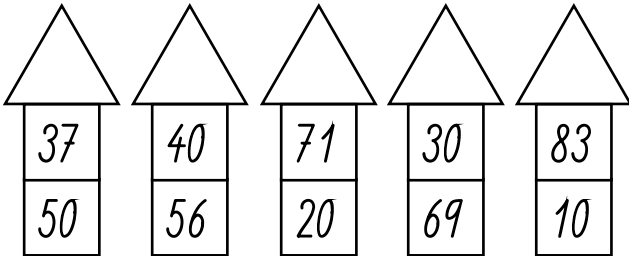
## Počítame do 100

- opakujeme pripočítanie a odčítanie celej desiatky - 3.

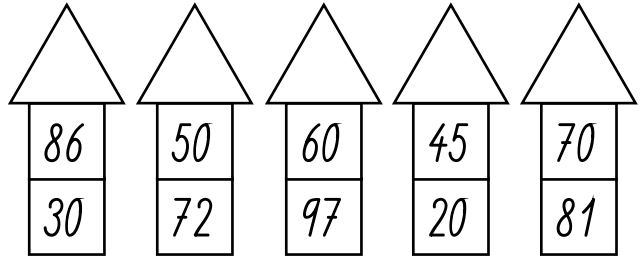
### 1. Rozlož na desiatky a jednotky.



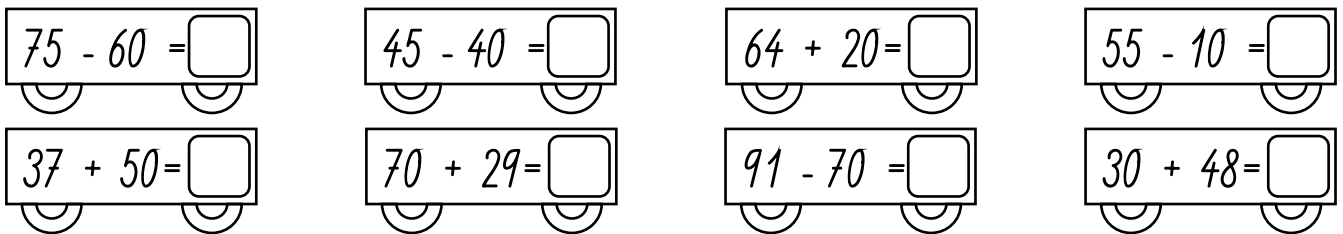
### 2. Do trojuholníka zapíš súčet čísel.



### 3. Do trojuholníka zapíš rozdiel čísel.



### 4. Vypočítaj. Výsledky zorad' a zapíš do okienok od najmenšieho po najväčší.



□ □ □ □ □ □ □ □

### 5. Skontroluj a oprav chyby.

$24 + 30 + 5 = 59$  \_\_\_       $76 + 1 + 20 = 99$  \_\_\_       $24 + 40 + 3 = 67$  \_\_\_

$10 + 41 + 6 = 58$  \_\_\_       $50 + 43 + 5 = 96$  \_\_\_       $26 + 2 + 50 = 88$  \_\_\_

### 6. Vyrieš.

Petko triedil diely drevenej staviebnice. Urobil tri kôpky. Na jednu dal 20 kociek, na druhú dal 15 valcov a na tretiu dal 30 kvádrov. Koľko dielov má staviebница?

Kociek ..... \_\_\_

Valcov ..... \_\_\_

Kvádrov ..... \_\_\_

Spolu ..... \_\_\_

Staviebница má  dielov.

