

3.roč., 1.časť (3.ročník), 18.-22.1.


1. Pomenujte noty v husľovom kľúči



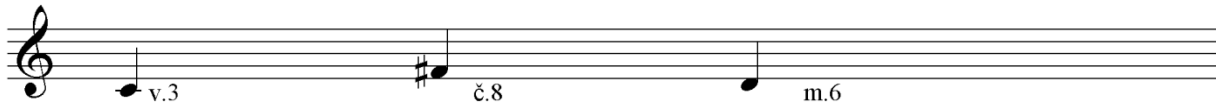
2. Pomenujte noty v basovom kľúči




3. Napíšte stupnicu D dur + kvintakord



4. vytvorte intervaly a k nim ich obraty




5. Doplňte vety




6. Doplňte


Tóninu skladby určujeme podľa počtu..... a podľa prvej alebo poslednej.....



7. Čo je to transpozícia?



8. Vypíšte, aké hudobné oktávy poznáme (začnite najnižšou)



9. Napíšte 3 príležitostné piesne a tance, o ktorých sme sa učili

